



ȘCOALA GIMNAZIALĂ "MIRCEA CEL BĂTRÂN"
CONCURS JUDEȚEAN "MICA OLIMPIADĂ DE INFORMATICĂ"
19 MAI 2018, EDIȚIA a XIX-a
Clasele a V-a și a VI-a
PROBA TEORETICĂ






I. Stabiliți valoarea de adevăr a fiecăruia dintre următoarele enunțuri: (20 p. = 2 p./ fiecare)
(pentru fiecare afirmație veți completa în fișa de răspunsuri cu A sau F)

- 1. Memoria ROM (Read Only Memory) este o memorie care permite accesul doar la citirea datelor.
- 2. Cea mai bună modalitate de prevenire a virusării unui calculator este folosirea unui program antivirus neactualizat.
- 3. 1 TB=240 Bytes.
- 4. Linux este un sistem de operare cu interfață tip text.
- 5. Microsoft Word se folosește pentru editarea textelor.
- 6. Monitorul este un periferic de intrare a datelor.
- 7. Atributul *Doar în citire*, aplicat unui fișier, permite accesul doar la ascunderea acestuia.
- 8. Paint creează fișiere cu extensia .txt.
- 9. Într-un document Word nu se poate insera o imagine.
- 10. Comanda bla*.docx este folosită pentru a căuta toate fișierele Word care încep grupul de litere bla.

II. Alegeți pentru fiecare item litera corespunzătoare răspunsului corect (20 p. = 2 p./ fiecare)






1. **Un MegaByte are:**
 - a. 1000 bytes
 - b. 220 bytes
 - c. 10 bytes
2. **Aveți deschise trei ferestre Windows. Care este modalitatea de a trece dintr-o fereastră în alta, fără a pierde prea mult timp?**
 - a. Alt+Tab
 - b. Alt+Shift
 - c. Alt+Enter
3. **Care dintre următoarele combinații reprezintă numai aplicații software ?**
 - a. MS DOS, Unix, Tastatura
 - b. Paint, Display, Windows
 - c. Microsoft Word, Paint, Notepad
4. **Aranjați următoarele dispozitive de stocare în ordine descrescătoare a capacităților de stocare: CD, discheta, DVD**
 - a. DVD, discheta, CD
 - b. discheta, DVD, CD
 - c. DVD, CD, discheta

5. Care este combinația de taste pentru ștergerea definitivă din calculator:
- a. Shift+Delete b. Alt+Delete c. Ctrl+Delete
6. Dispozitiv de ieșire este:
- a. tastatura b. imprimanta c. modem
7. Care este opțiunea pentru schimbarea numelui unui fișier:
- a. Copiere b. Mutare c. Redenumire
8. Tasta **End** mută cursorul la:
- a. începutul documentul b. sfârșitul liniei de text c. începutul paragrafului
9. Care dintre următoarele dispozitive este necesar pentru a comunica cu alte calculatoare prin intermediul internetului?
- a. DVD-ROM b. switch c. Hot-Spot
10. Care dintre următoarele butoane minimizează dimensiunea ferestrei unei aplicații?
- a.  b.  c. 

III. Completați următoarele enunțuri astfel încât ele să fie corecte: (30 p. = 3 p./ fiecare)

1. Calculatorul este alcătuit din două componente și
2. Componenta software conține programe de și programele
3. Modalitatea de a trece dintr-o fereastră în alta, fără a pierde prea mult timp, este.....
4. Aplicația se folosește pentru realizarea fișierelor cu extensia .txt.
5. este un sistem de operare cu interfață grafică.
6. Atributul, aplicat unui fișier, permite ascunderea acestuia.
7. Dispozitivul de intrare ce permite scrierea se numește.....
8. În meniul se găsește opțiunea de adăugare a unei miniaturi.
9. Într-un document Word, paginile se pot aranja pe foaie.
10. Comanda *ama*.jpg caută toate imaginile care ama.

IV. Realizați corespondența dintre pictogramele din prima coloană și acțiunea corespunzătoare acestora, din coloana a doua: (20 p. = 4 p./fiecare)

COLOANA A	COLOANA B	Corespondența
1. 	a. Incadrare text	
2. 	b. Descriptor de formatare	
3. 	c. Inscricționare (Watermark)	
4. 	d. Trunchiere	
5. 	e. Rotire	

Notă: Toate subiectele sunt obligatorii. Se acordă 10 puncte din oficiu. Timp de lucru 1 oră.



ȘCOALA GIMNAZIALĂ "MIRCEA CEL BĂTRÂN"
CONCURS JUDEȚEAN "MICA OLIMPIADĂ DE INFORMATICĂ"
19 MAI 2018, EDIȚIA a XIX-a
Clasele a V-a și a VI-a
PROBA TEORETICĂ
BAREM



I	1	2	3	4	5	6	7	8	9	10
	A	F	F	A	A	F	F	F	F	A
II	1	2	3	4	5	6	7	8	9	10
	*erata	a	c	c	a	b	c	b	b	a
III	1	2	3	4	5	6	7	8	9	10
	Hardware, software	Aplicație Sistemului de operare	Alt+Tab	Notepad	Windows/ Linux	Ascundere/ Hide	Tastatura	Inserare	două/2	Conțin
IV	1-b		2-c		3-a		4-e		5-d	

Se punctează orice răspuns corect

***Erată: Subiectul II.1. a fost redactat greșit, toti elevii au primit punctajul maxim**